



*Ministero dell' Istruzione,
dell' Università e della Ricerca*

*Gruppo di lavoro per la predisposizione degli indirizzi per l'attuazione
delle disposizioni concernenti la valutazione del servizio scolastico*

**Progetto Pilota
Valutazione della scuola italiana**

Anno Scolastico 2003 – 2004

PROVA DI MATEMATICA

Scuola Elementare

Classe Quarta

Codici

Scuola:

Classe:

Studente:

Spazio per l'etichetta autoadesiva

A cura dell'INValSI



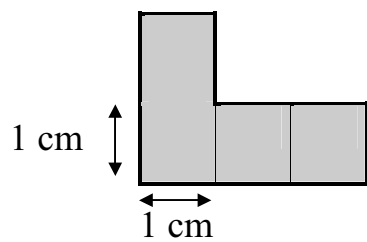
17010

1701 CODICE PAGINA

1. Quante ore ci sono in una settimana?

- A. 84 ore.
 - B. 140 ore.
 - C. 168 ore.
 - D. 178 ore.
-

2. Quanto misura il perimetro della figura?



- A. 6 cm
- B. 7 cm
- C. 8 cm
- D. 10 cm

3. Nell'etichetta di un pacchetto di the è scritto:

64 filtri

108 grammi

Quanti grammi di the si acquistano comprando quel pacchetto?

- A. 6912 g
 - B. 180 g
 - C. 172 g
 - D. 108 g
-

4. Osserva questo calcolo:

$$28 + \Delta + 42 = 100$$

Perché l'uguaglianza sia vera che valore deve avere il triangolino?

- A. 70
- B. 50
- C. 40
- D. 30



5. In quale figura vedi 5 quadrati?

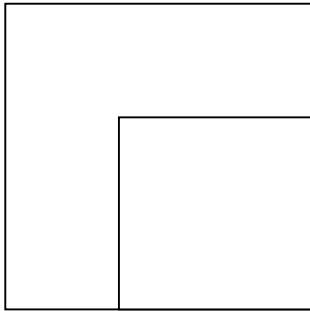


Figura 1

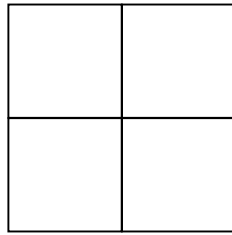


Figura 2




Figura 3

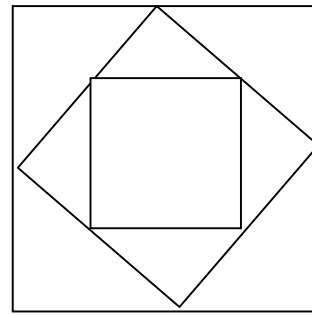
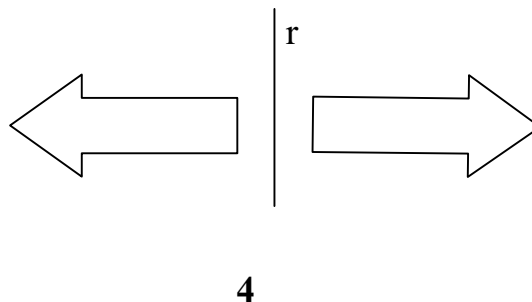
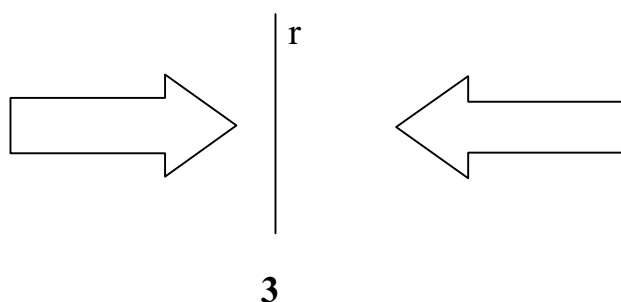
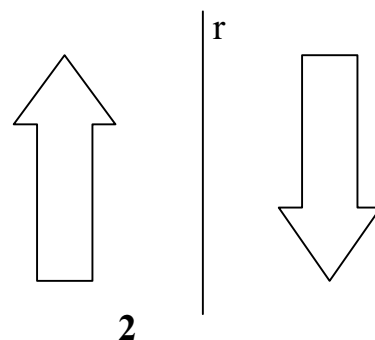
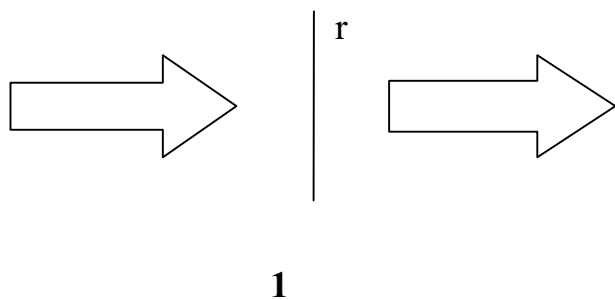


Figura 4

- A. 1
- B. 2
- C. 3
- D. 4

6. Quale coppia di figure è simmetrica rispetto alla retta r ?



- A. 1
- B. 2
- C. 3
- D. 4

7. Quale tra le seguenti affermazioni è falsa?

- A. 7 centinaia è maggiore di 8 decine.
- B. 7 centinaia è maggiore di 600 unità.
- C. 7 centinaia è minore di 700 unità.
- D. 7 centinaia è uguale a 70 decine.

8. In ogni figura è stata tracciata una delle altezze. In quale figura l'altezza non è stata tracciata correttamente?

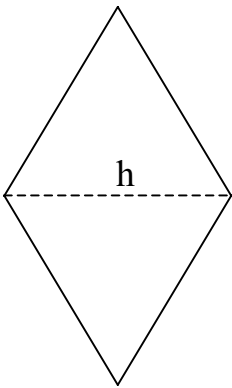


Figura 1

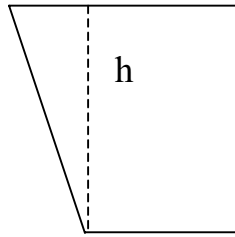


Figura 2

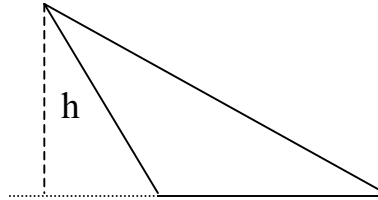


Figura 3



Figura 4

- A. 1
- B. 2
- C. 3
- D. 4

-
9. 23×15 dà un risultato minore di 23×16 . Di quanto sarà minore?

- A. 23
- B. 16
- C. 15
- D. 1



10. Ogni piano della facciata ha 4 finestre. Le finestre in tutto sono 32.



Quanti sono i piani dell'edificio?

- A. 6
- B. 7
- C. 8
- D. 9

11. In un parcheggio ci sono in tutto 40 auto disposte su 5 file uguali.
Quante auto ci sono in ogni fila?

A. 200

B. 45

C. 35

D. 8

12. Giovanni ha a disposizione una bottiglia di succo di frutta da 1,5 litri.
Quanti bicchieri da 1 decilitro riesce a riempire?

A. 3

B. 10

C. 15

D. 16



13. Luca, Giovanni, Paolo e Alessio hanno giocato al tiro al bersaglio. Dopo ogni tiro ciascuno ha segnato con un trattino su questa tabella il punteggio ottenuto.

| Giocatori | Punti che valgono 25 | Punti che valgono 50 | Punti che valgono 100 |
|------------------|-----------------------------|-----------------------------|------------------------------|
| LUCA | | | |
| GIOVANNI | | | |
| PAOLO | | | |
| ALESSIO | | | |

Chi ha vinto la partita?

- A. Luca.
- B. Giovanni.
- C. Paolo.
- D. Alessio.
-

14. Marco ha un album di 12 pagine. Completa l'album incollando 8 figurine su ogni pagina. Quante figurine ha incollato?

- A. 4
- B. 20
- C. 86
- D. 96



15. Quanto può essere l'altezza di un gradino delle scale di un palazzo?

- A. 20 mm
 - B. 20 cm
 - C. 20 dm
 - D. 20 m
-

16. Osserva la sequenza di numeri:

6 13 ... 27 34

Quale numero metteresti nello spazio vuoto per mantenere la regola della sequenza?

- A. 21
- B. 20
- C. 18
- D. 15



17. Giulio, Mattia e Silvia hanno a disposizione tre caramelle in tutto e decidono di sceglierne una per ciascuno. Le caramelle sono una alla fragola, una al limone, una al latte. I tre bambini dicono:

Giulio: "A me non piace il limone".

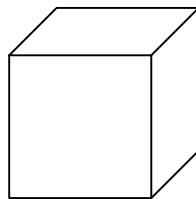
Mattia: "Io non posso mangiare la caramella al latte".

Silvia: "Scelgo io quella al latte".

Di chi sarà la caramella al limone?

- A. Silvia.
 - B. Mattia.
 - C. Giulio.
 - D. Di nessuno.
-

18. Quante sono tutte le facce del cubo?



- A. 8
- B. 6
- C. 4
- D. 3

19. Chiara si è addormentata alle ore 22. Alle ore 7 suona la sveglia. Quante ore ha dormito?

- A. 7
 - B. 8
 - C. 9
 - D. 15
-

20. Quale affermazione è FALSA?

figura 1

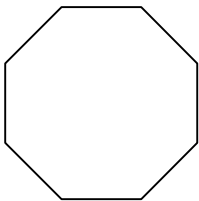


figura 2

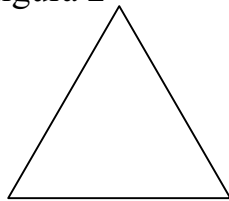


figura 3

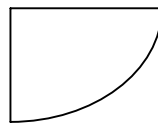
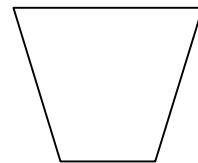


figura 4

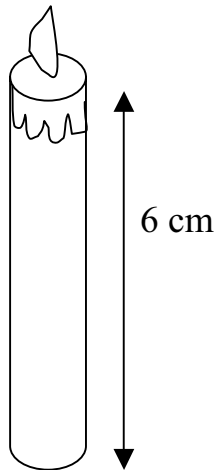


- A. La figura 1 è un poligono.
- B. La figura 2 è un poligono.
- C. La figura 4 è un poligono.
- D. Tutte le figure sono poligoni.

21. Che numero ottieni se togli una decina al numero 3100?

- A. 2190
 - B. 2900
 - C. 2990
 - D. 3090
-

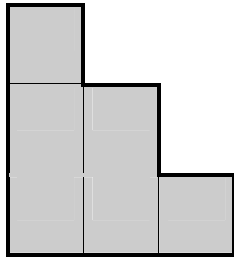
22. $\frac{1}{3}$ della candela si è consumata e ne sono rimasti 6 cm.



Quanto era alta la candela prima di essere accesa?

- A. 3 cm
- B. 6 cm
- C. 9 cm
- D. 10 cm

23. Quanto misura l'area della figura sapendo che l'area di un quadratino è 1 cm^2 ?

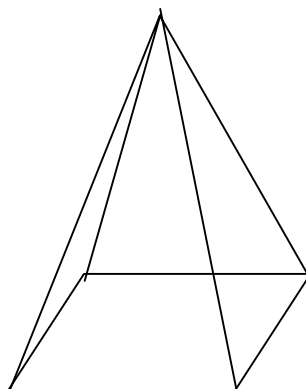
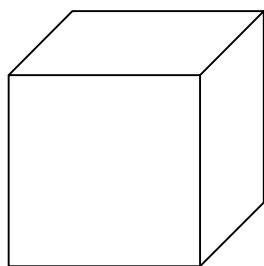


- A. 5 cm^2
- B. 6 cm^2
- C. 10 cm^2
- D. 12 cm^2
-

24. Gli alunni delle classi quarte sono 138. Per fare un gioco devono formare squadre da 6 bambini ciascuna. Quale operazione fai per sapere quante squadre si formano?

- A. $138 + 6$
- B. $138 : 6$
- C. $138 - 6$
- D. 138×6

25. Che cosa rappresenta il disegno?



- A. Una piramide e un cono.
 - B. Un cubo e un parallelepipedo.
 - C. Una piramide e un cubo.
 - D. Un triangolo e un quadrato.
-

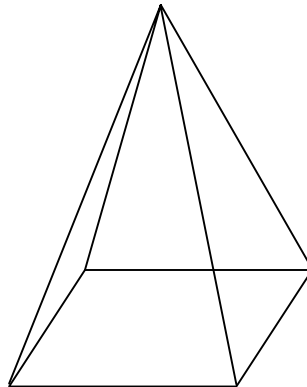
26. Quale dei seguenti calcoli dà come risultato 45?

- A. 6×9
- B. $328 - 183$
- C. $37 + 18$
- D. $225 : 5$

27. Quale delle seguenti misure può corrispondere all'altezza della porta della cucina?

- A. 57 dm
 - B. 260 cm
 - C. 1 dam
 - D. 16 m
-

28. Qual è il nome del solido rappresentato in figura?



- A. Parallelogramma.
- B. Cubo.
- C. Piramide.
- D. Triangolo.